

Exercice 1 Parité

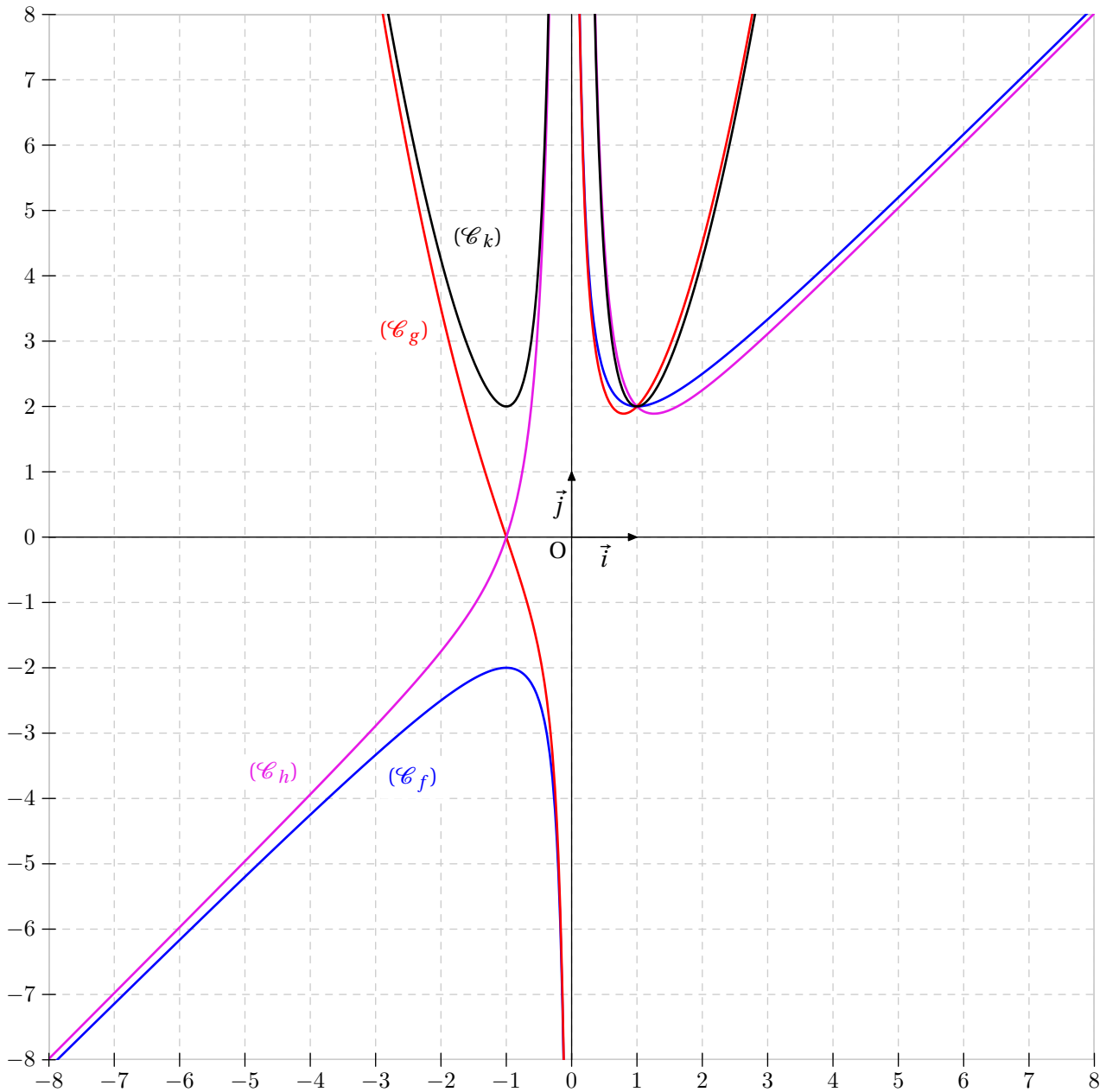
Etudier la parité de chacune des fonctions suivantes :

$$f(x) = x + \frac{1}{x} \text{ définie sur } \mathbb{R}^*$$

$$g(x) = x^2 + \frac{1}{x} \text{ définie sur } \mathbb{R}^*$$

$$h(x) = x + \frac{1}{x^2} \text{ définie sur } \mathbb{R}^*$$

$$k(x) = x^2 + \frac{1}{x^2} \text{ définie sur } \mathbb{R}^*$$

Illustration

Exercice 2 Composée

On considère la fonction f définie par $f(x) = x^2 - 1$ sur \mathbb{R} .

Donner une formule explicite de la fonction $f \circ g$ lorsque :

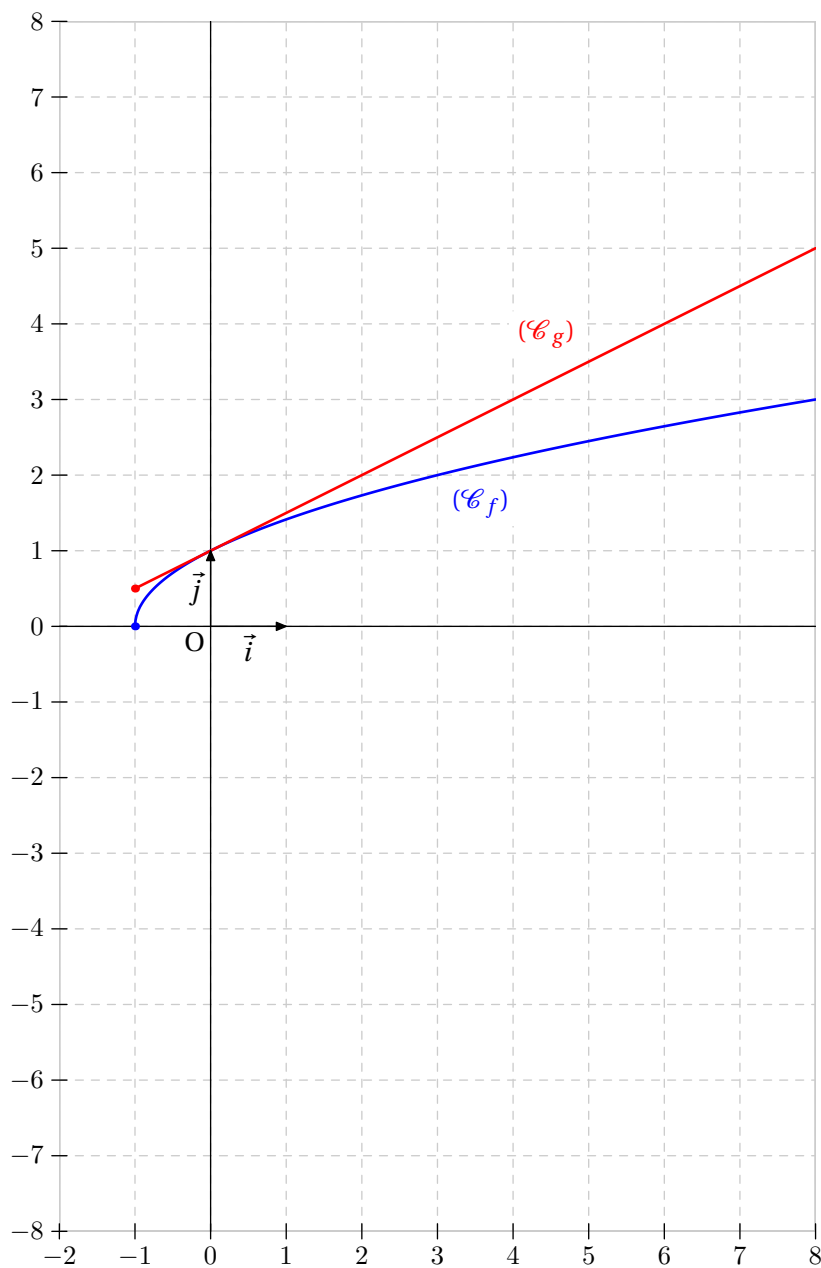
$$g(x) = \sqrt{x-1} \text{ sur } [1; +\infty[\qquad g(x) = 1 - \frac{1}{x} \text{ sur } \mathbb{R}^*.$$

Exercice 3 Comparaison de fonctions

Le but de cet exercice est de comparer les deux fonctions f et g définies par :

$$f(x) = \sqrt{1+x} \text{ et } g(x) = 1 + \frac{x}{2} \text{ sur l'intervalle } [-1; +\infty[.$$

- 1) Montrer que $f(x) \geq 0$ et $g(x) \geq 0$ pour tout $x \in [-1; +\infty[$.
- 2) Calculer $(f(x))^2$ et $(g(x))^2$.
- 3) Démontrer que $(f(x))^2 \leq (g(x))^2$ pour tout $x \in [-1; +\infty[$.
- 4) En déduire une comparaison de f et g sur l'intervalle $[-1; +\infty[$.
- 5) Tracer sur un même repère les représentations graphiques de f et g sur l'intervalle $[-1; +\infty[$.

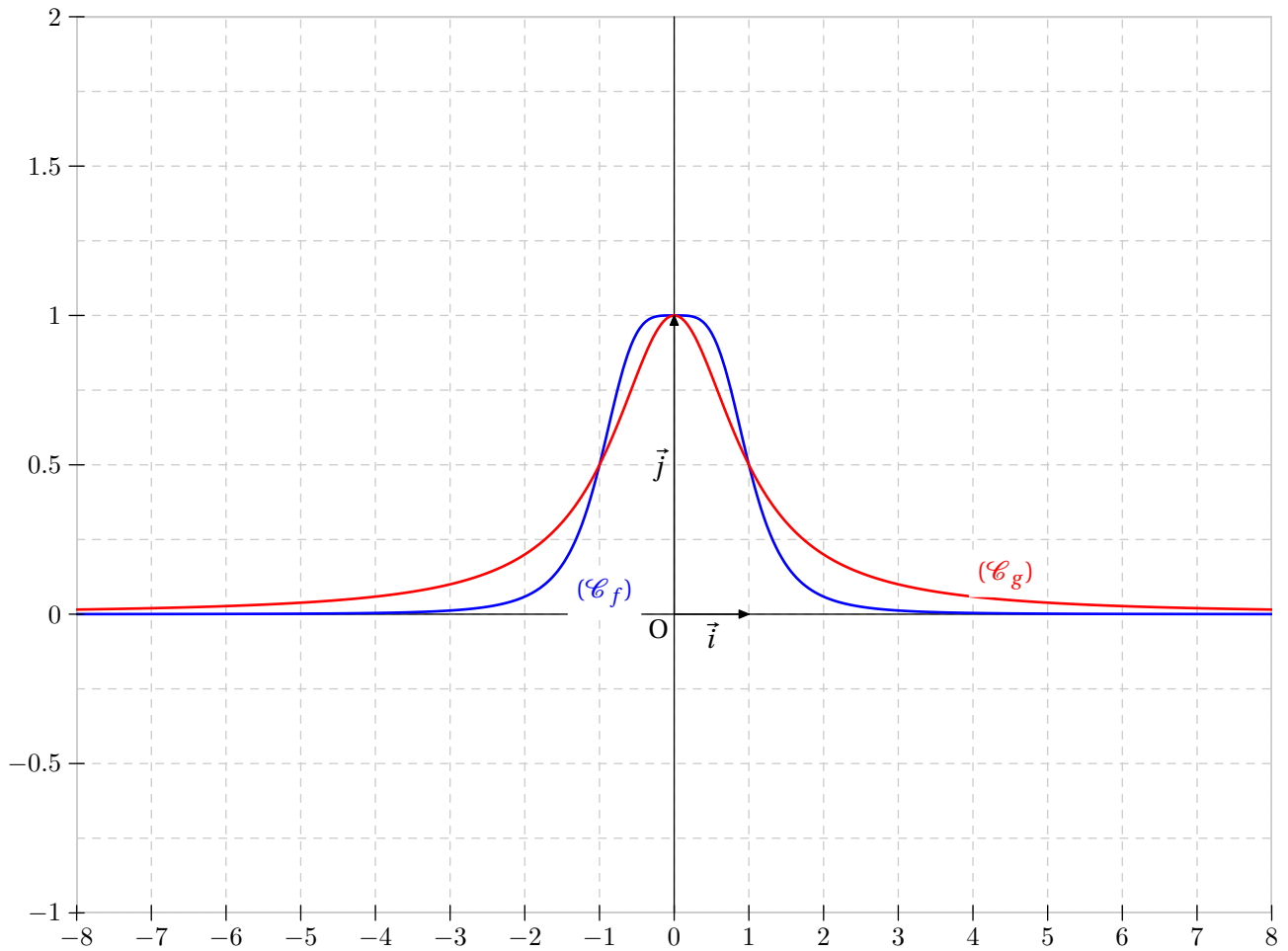
Illustration

Exercice 4 Comparaison de fonctions

Le but de cet exercice est de comparer les deux fonctions f et g définies sur \mathbb{R} par :

$$f(x) = \frac{1}{1+x^4} \text{ et } g(x) = \frac{1}{1+x^2}.$$

- 1) Calculer $f(x) - g(x)$. On réduira au même dénominateur.
- 2) En déduire l'intervalle sur lequel on a $f \geq g$.

Illustration

Exercice 5 Sens de variation

On considère la fonction f définie par $f(x) = x(1 - x)$ sur \mathbb{R} .

1) Démontrer que $f(x) \leq \frac{1}{4}$ pour tout $x \in \mathbb{R}$.

2) En déduire que la fonction f admet un maximum en $x = \frac{1}{2}$.

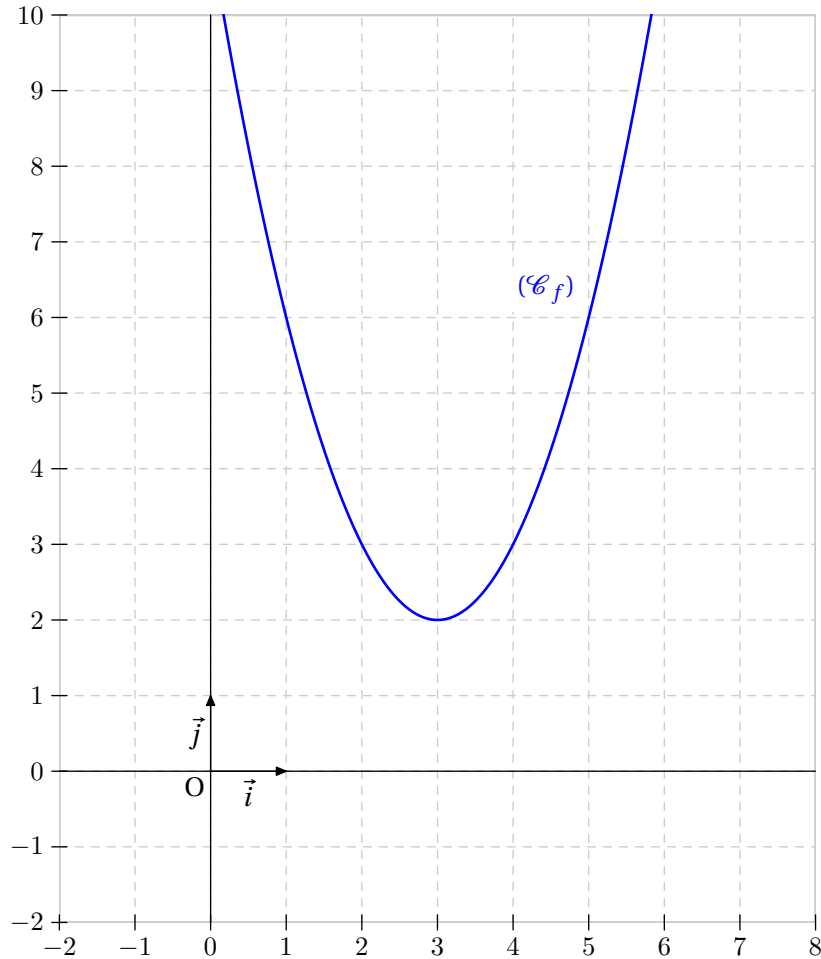
3) Démontrer que $f(x) = \frac{1}{4} - \left(x - \frac{1}{2}\right)^2$.

4) En déduire que la fonction f est croissante sur l'intervalle $] -\infty ; \frac{1}{2}[$ et décroissante sur $]\frac{1}{2} ; +\infty[$.

Illustration

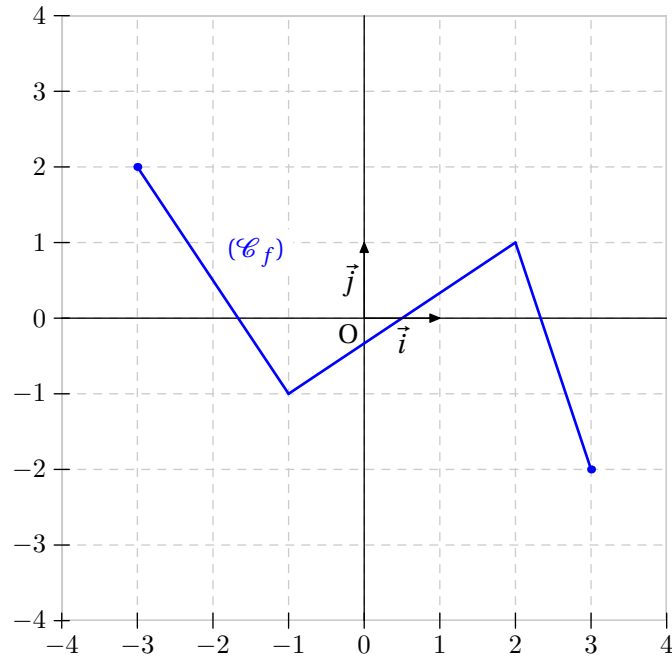
Exercice 6 Sens de variation d'une fonction composée

Donner une décomposition de la fonction f définie par $f(x) = (x - 3)^2 + 2$ qui permette d'en déduire son sens de variation sur l'intervalle $I =] - \infty ; 3]$.

Illustration

Exercice 7 Fonction associée

On considère la fonction f définie sur $[-3 ; 3]$ dont la représentation graphique est donnée ci-dessous :



Préciser l'ensemble de définition et représenter chacune des fonctions définies ci-dessous :

$$f_1(x) = -f(x)$$

$$f_2(x) = |f(x)|$$

$$f_3(x) = f(x) + 1$$

$$f_4(x) = f(x + 1)$$

Exercice 8

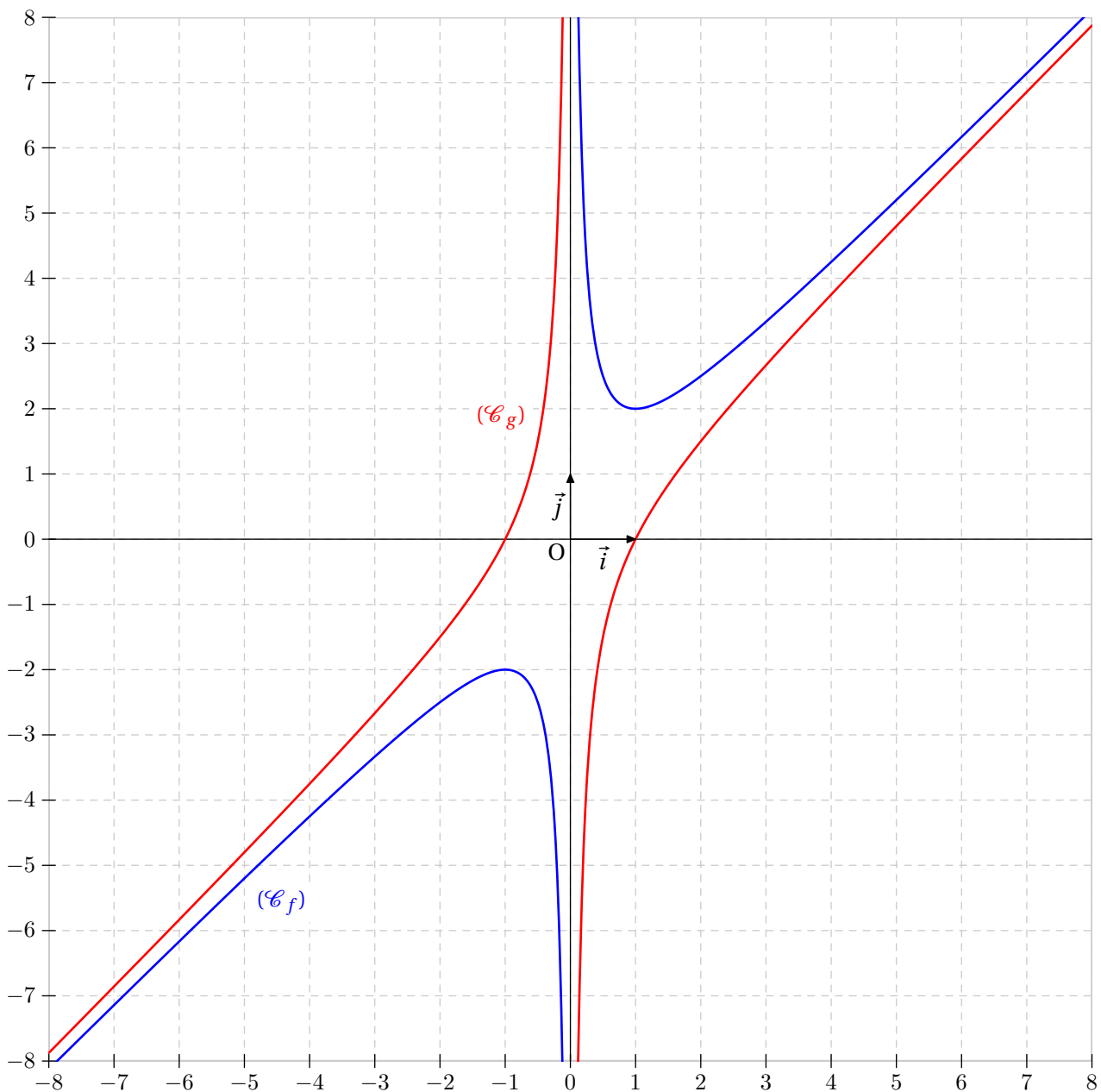
Soit f la fonction définie sur \mathbb{R}^* par $x \rightarrow x + \frac{1}{x}$.

Soit g la fonction définie sur \mathbb{R}^* par $x \rightarrow x - \frac{1}{x}$.

- 1) Montrer que f est croissante sur $]1 ; +\infty[$ et décroissante sur $]0 ; 1]$. Qu'en est-il de g ?
- 2) Tracer les courbes représentatives de f et g dans un même repère.
- 3) Préciser si f est majorée, minorée, bornée ou non sur les intervalles suivants :

$$\left[\frac{1}{2} ; 3\right], [1 ; +\infty[\text{ et }]0 ; 1].$$

On utilisera le fait qu'une fonction monotone sur un intervalle $[a ; b]$ est encadrée par $f(a)$ et $f(b)$.

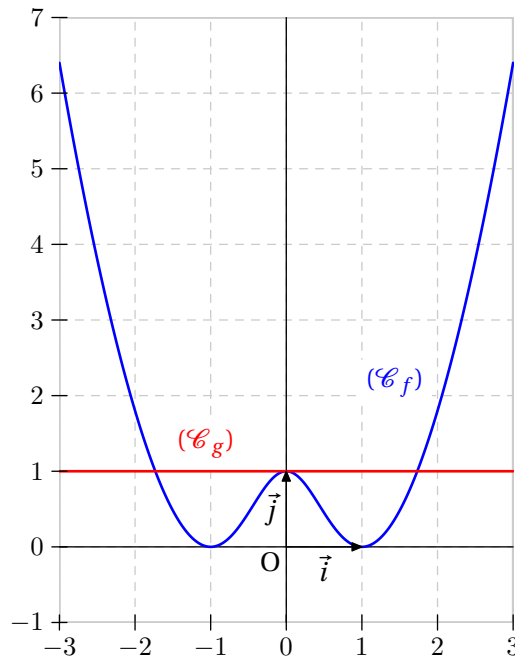
Illustration

Exercice 9

On considère la fonction f définie par :

$$f(x) = \frac{(1 - x^2)^2}{1 + x^2}.$$

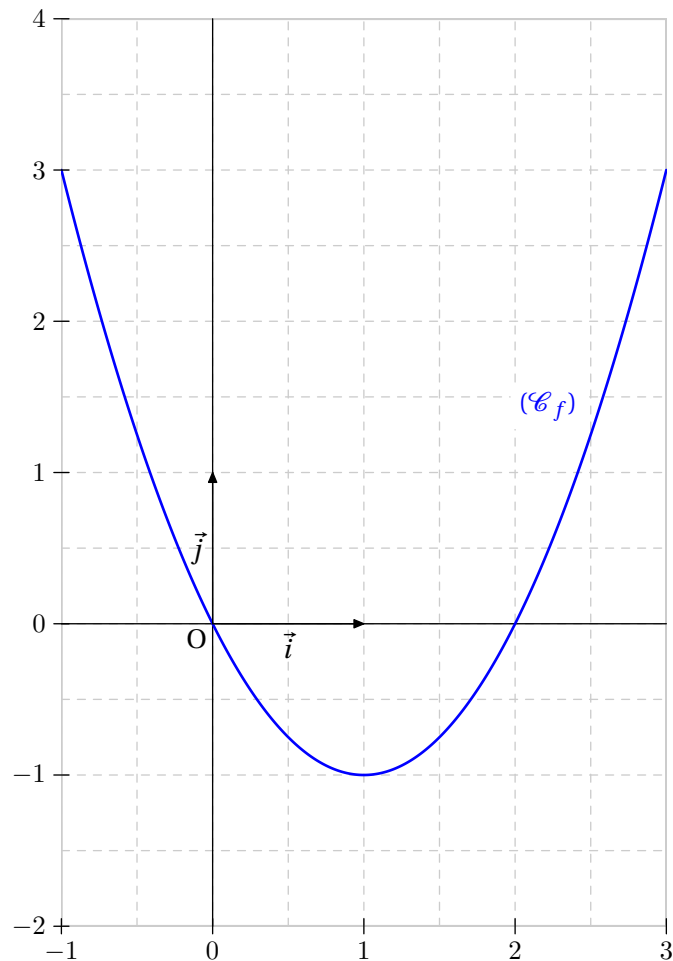
- 1) Déterminer son ensemble de définition.
- 2) Démontrer que f est une fonction positive sur \mathbb{R} .
- 3) Etudier la parité de la fonction f .
- 4) Tracer soigneusement la représentation graphique (\mathcal{C}_f) de la fonction f . On se limitera à l'intervalle $[-3 ; 3]$.
- 5) Donner par lecture graphique la valeur du maximum de la fonction f sur ;
 - a) l'intervalle $[-1 ; 1]$;
 - b) l'intervalle $[-2 ; 1]$.
- 6) Résoudre l'inéquation $f(x) \leq 1$.

Illustration

Exercice 10

On considère la fonction f définie pour tout x de \mathbb{R} par : $f(x) = x(x - 2)$.

- 1) Etudier la parité de la fonction f .
- 2) Démontrer que $f(x) = (x - 1)^2 - 1$.
- 3) Démontrer que la fonction f est minorée par -1 .
- 4) Tracer soigneusement la représentation graphique (\mathcal{C}_f) de la fonction f . On se limitera à l'intervalle $[-1 ; 3]$.

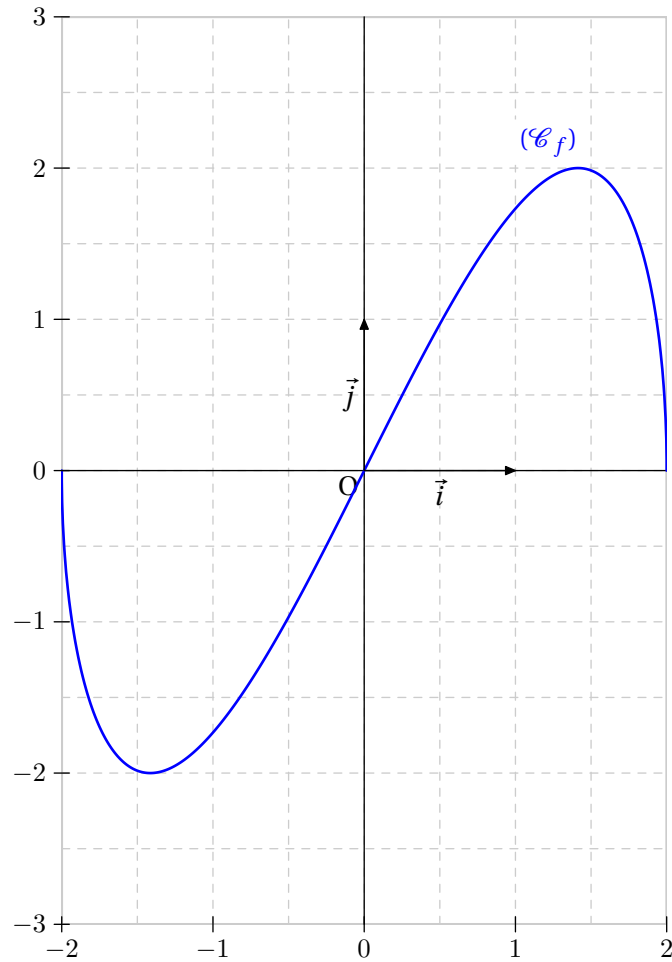
Illustration

Exercice 11

On considère la fonction f définie par ;

$$f(x) = x\sqrt{4-x^2}.$$

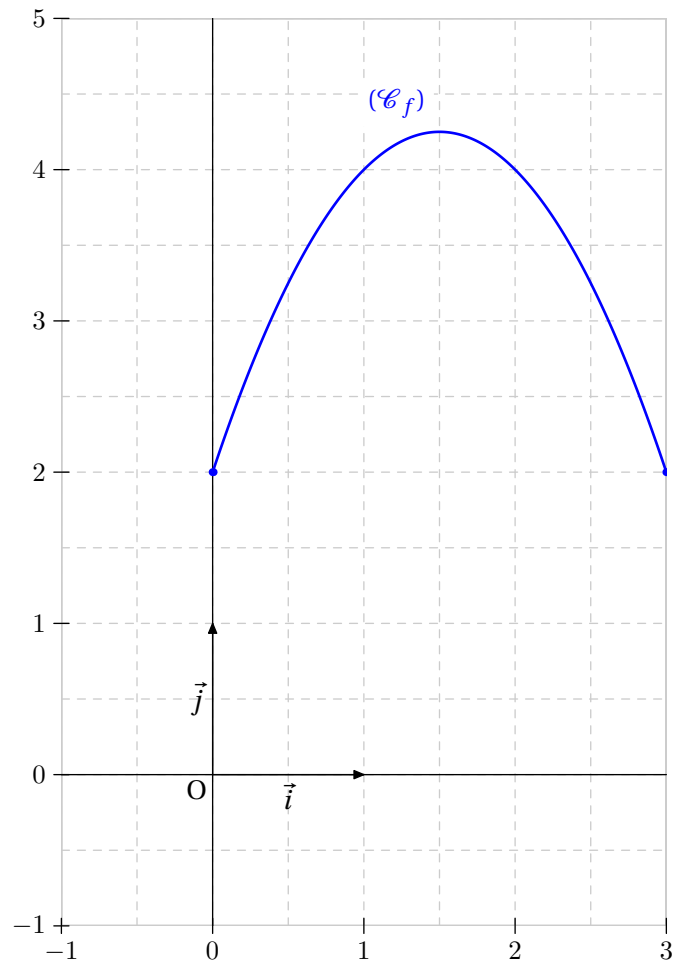
- 1) Déterminer l'ensemble de définition de la fonction f .
- 2) Etudier la parité de la fonction f .
- 3) Tracer soigneusement la représentation graphique (\mathcal{C}_f) de la fonction f .
- 4) Démontrer que f admet un maximum $M = 2$. On pourra déterminer le signe de $[f(x)]^2 - 4$.

Illustration

Exercice 12

On considère la fonction f définie sur $[0 ; 3]$ par $f(x) = -x^2 + 3x + 2$.

- 1) Démontrer que $f(x) = (1 - x)(x - 2)$.
- 2) Tracer la représentation graphique (\mathcal{C}_f) de la fonction f sur l'intervalle $[0 ; 3]$.
- 3) Résoudre par le calcul l'inéquation $f(x) \geq 0$.

Illustration

Exercice 13

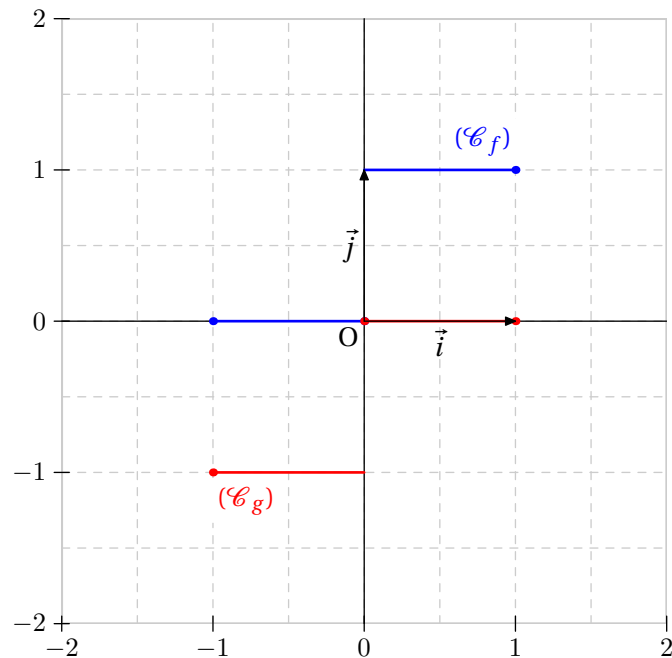
Tout le monde connaît bien la propriété suivante :

Soient A et B deux réels. Si $AB = 0$, alors $A = 0$ ou $B = 0$.

1) Considérons les fonctions f et g définies sur $I = [-1 ; 1]$ par :

$$f(x) = \begin{cases} 1 & \text{si } x > 0 \\ 0 & \text{si } x \leq 0 \end{cases} \quad \text{et } g(x) = \begin{cases} 0 & \text{si } x \geq 0 \\ -1 & \text{si } x < 0 \end{cases}$$

- Représenter graphiquement les fonctions f et g .
 - Que vaut le produit fg sur I ? La propriété énoncée ci-dessus pour des réels est-elle vraie pour des fonctions?
- 2) Soit f une fonction définie sur un intervalle I et k un nombre réel non nul. On suppose que : $k f = 0$ sur I . Que dire de la fonction f sur I ?

Illustration

Exercice 14

Le but du problème est de comparer les deux nombres suivants :

$$A = \frac{1,000\,000\,2}{1,000\,000\,4} \text{ et } B = \frac{0,999\,999\,6}{0,999\,999\,8}.$$

1) Soient f et g les fonctions définies par :

$$f(x) = \frac{1 + 2x}{1 + 4x} \text{ et } g(x) = \frac{1 - 4x}{1 - 2x}.$$

a) Quels sont les ensembles de définition \mathcal{D}_f et \mathcal{D}_g des fonctions f et g ?

b) Que vaut $f(10^{-7})$? Que vaut $g(10^{-7})$?

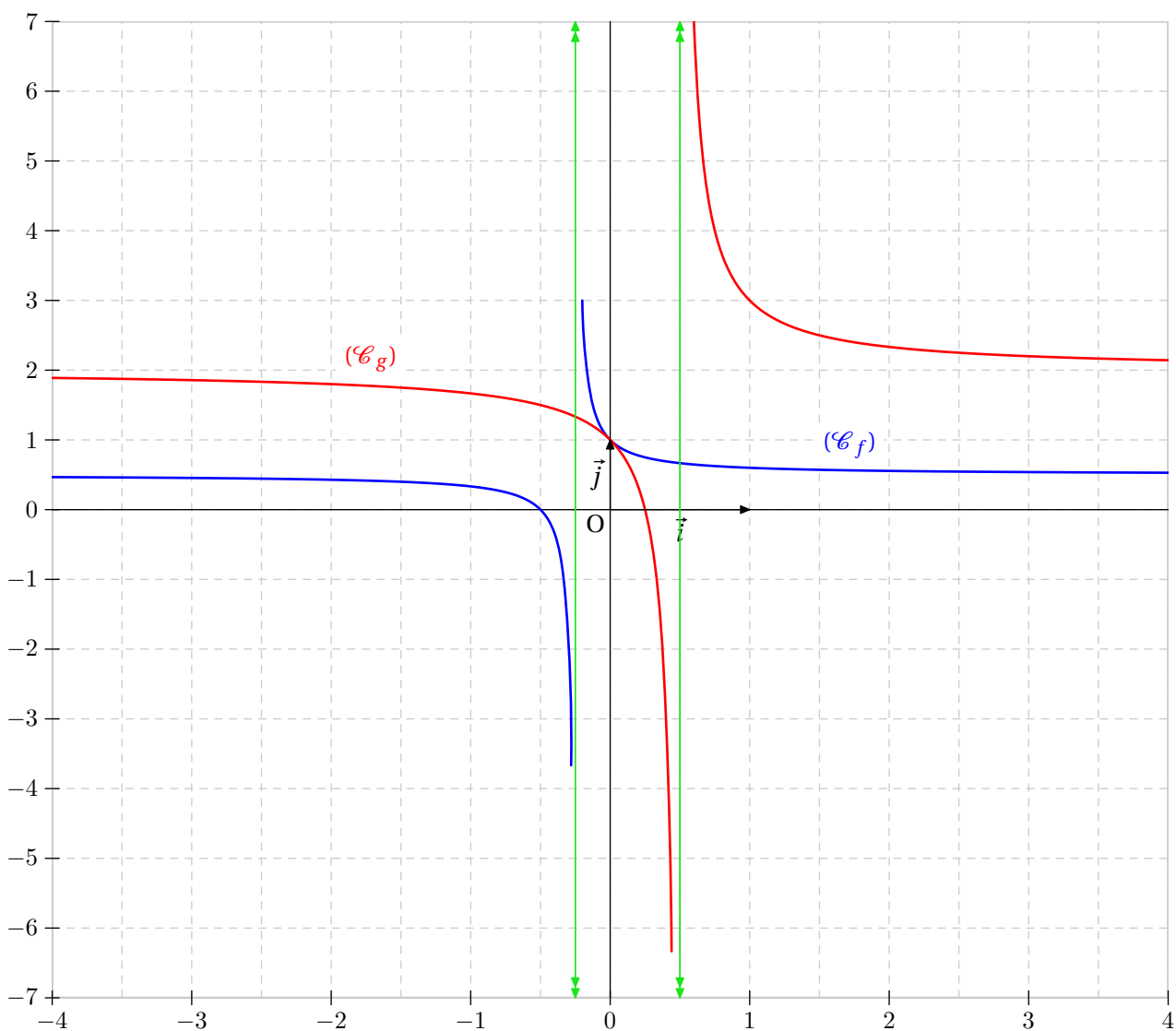
2) Pour comparer les nombres A et B , on va comparer les fonctions f et g en étudiant la différence $f(x) - g(x)$.

a) Démontrer que : $f(x) - g(x) = \frac{12x^2}{(1 + 4x)(1 - 2x)}$.

b) Résoudre l'inéquation : $f(x) - g(x) > 0$.

c) En déduire le signe de $f(10^{-7}) - g(10^{-7})$.

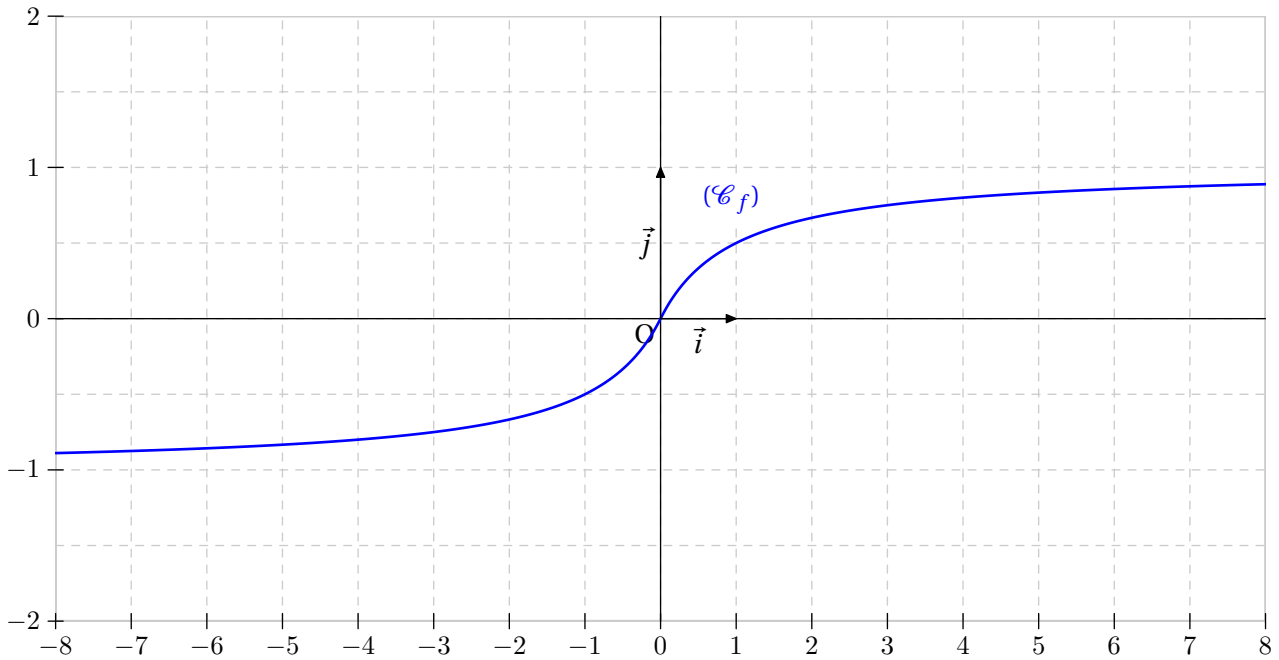
d) Conclure.

Illustration

Exercice 15

On considère la fonction f définie sur \mathbb{R} par $f(x) = \frac{x}{1+|x|}$.

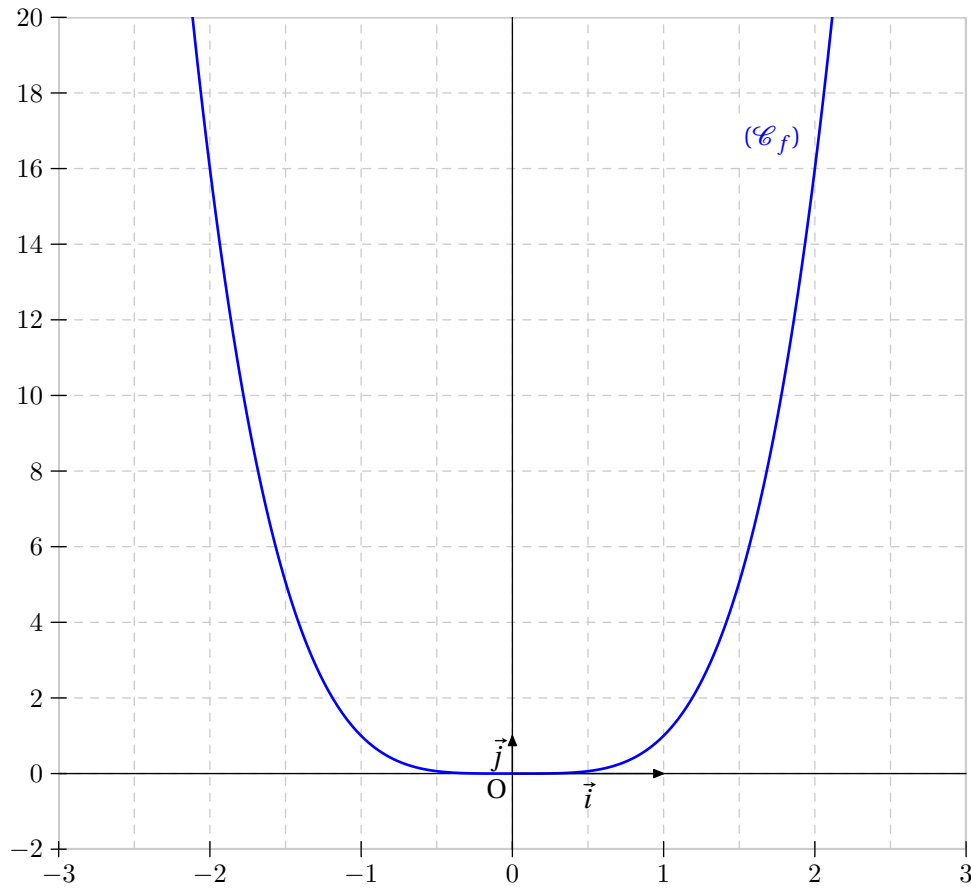
- 1) Etudier la parité de la fonction f .
- 2) Démontrer que $f(x) < 1$ pour tout $x \in \mathbb{R}$.
- 3) Tracer la représentation graphique (\mathcal{C}_f) de la fonction f .

Illustration

Exercice 16

Soit la fonction f définie sur \mathbb{R} par : $f(x) = x^4$.

- 1) Démontrer que, quels que soient les réels X et Y , on a : $X^4 - Y^4 = (X - Y)(X + Y)(X^2 + Y^2)$.
- 2) Démontrer que la fonction f est strictement croissante sur $[0 ; +\infty[$.
- 3) Etudier la parité de f . En déduire le sens de variation de f sur $] -\infty ; 0]$.

Illustration

Exercice 17

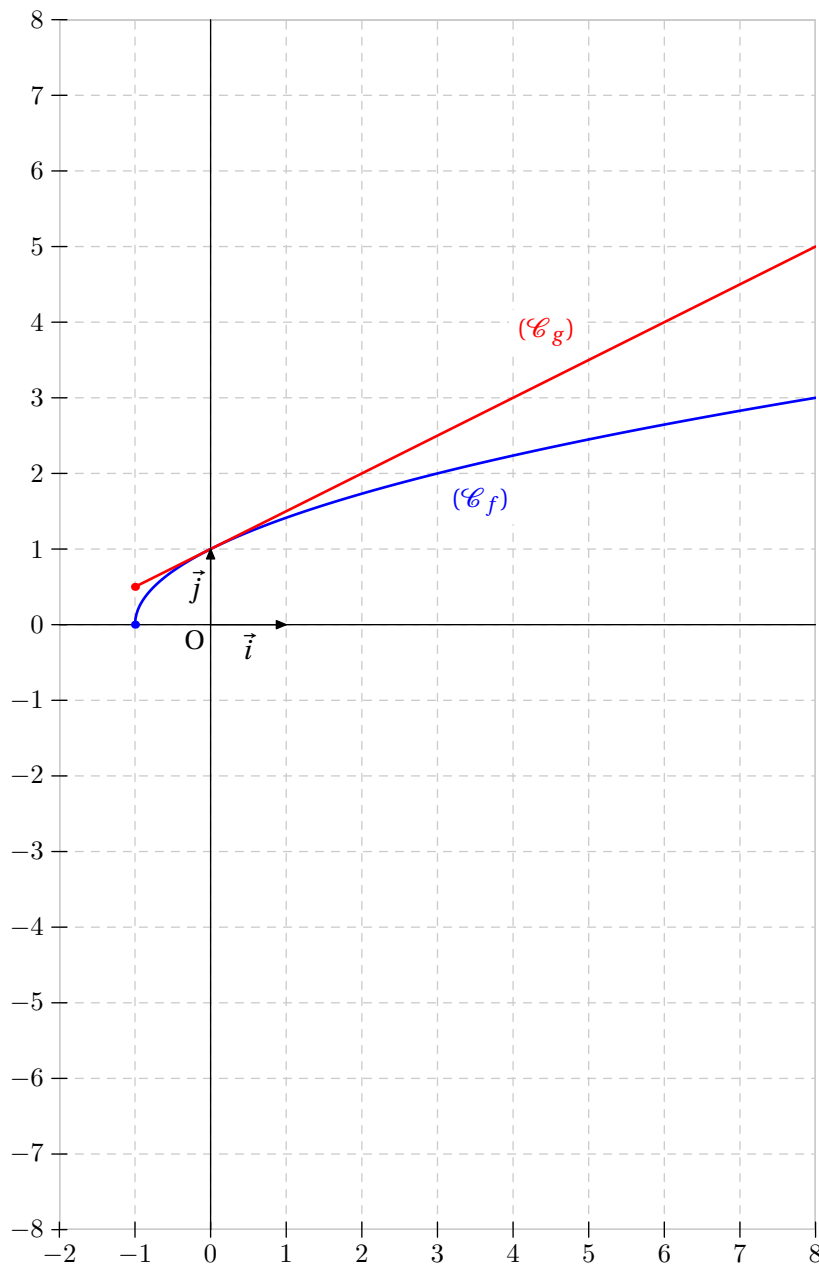
Le but de ce problème est de comparer les nombres suivantes :

$$A = 1,000\,000\,2 \text{ et } B = \sqrt{1,000\,000\,4}.$$

1) Soient f et g les fonctions définies par :

$$f(x) = \sqrt{1+x} \text{ et } g(x) = 1 + \frac{x}{2}.$$

- a) Quels sont les ensembles de définition \mathcal{D}_f et \mathcal{D}_g des fonctions f et g ?
 - b) Que vaut $f(4 \times 10^{-7})$? Que vaut $g(4 \times 10^{-7})$?
- 2) Pour comparer les nombres A et B , on va comparer les fonctions f et g en étudiant la différence $f(x) - g(x)$.
- a) Montrer que $f(x) \geq 0$ et $g(x) > 0$ pour tout $x \in [-1; +\infty[$.
 - b) Calculer $(f(x))^2$ et $(g(x))^2$.
 - c) Démontrer que $(f(x))^2 < (g(x))^2$ pour tout $x \in [-1; +\infty[\setminus\{0\}$.
 - d) Conclure.

Illustration

Exercice 18

Soient a et b dans \mathbb{R}^* .

- 1) Développer $(\sqrt{a} + \sqrt{b})^2$.
- 2) Démontrer que : $\sqrt{a} - \sqrt{b} \geq \sqrt{a+b}$.

Exercice 19

Soient f et g les fonctions définies sur \mathbb{R} par :

$$f(x) = 2x^2 - 1 \text{ et } g(x) = 4x^3 - 3x.$$

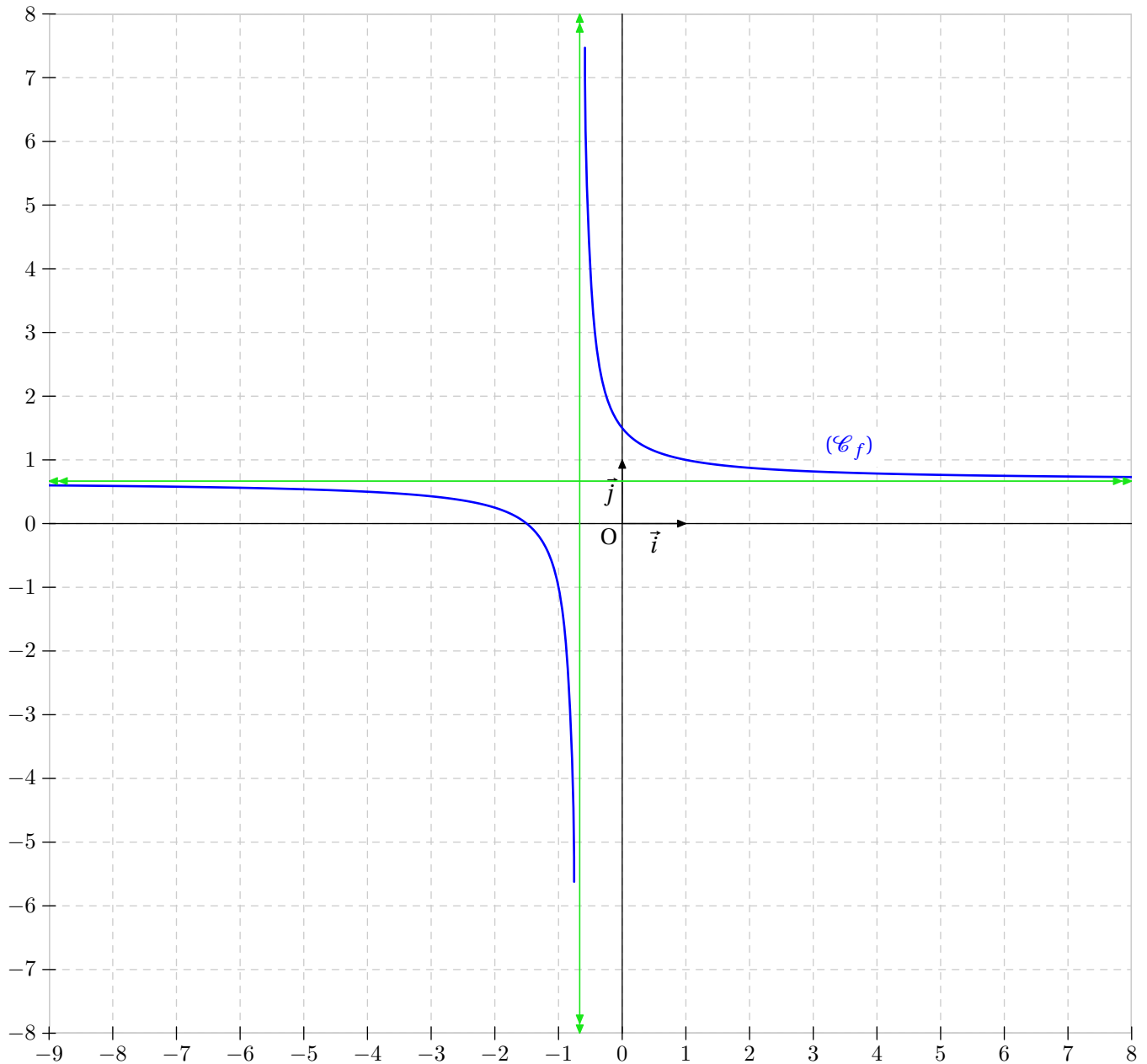
Démontrer que $f \circ g = g \circ f$.

Exercice 20

Soit la fonction f définie par :

$$f(x) = \frac{2x + 3}{3x + 2}$$

- 1) Etudier les limites de f . Interpréter graphiquement.
- 2) Etudier les variations de f . Donner le tableau de variations complet.
- 3) Déterminer les éventuelles intersections de (C_f) avec l'axe des abscisses.

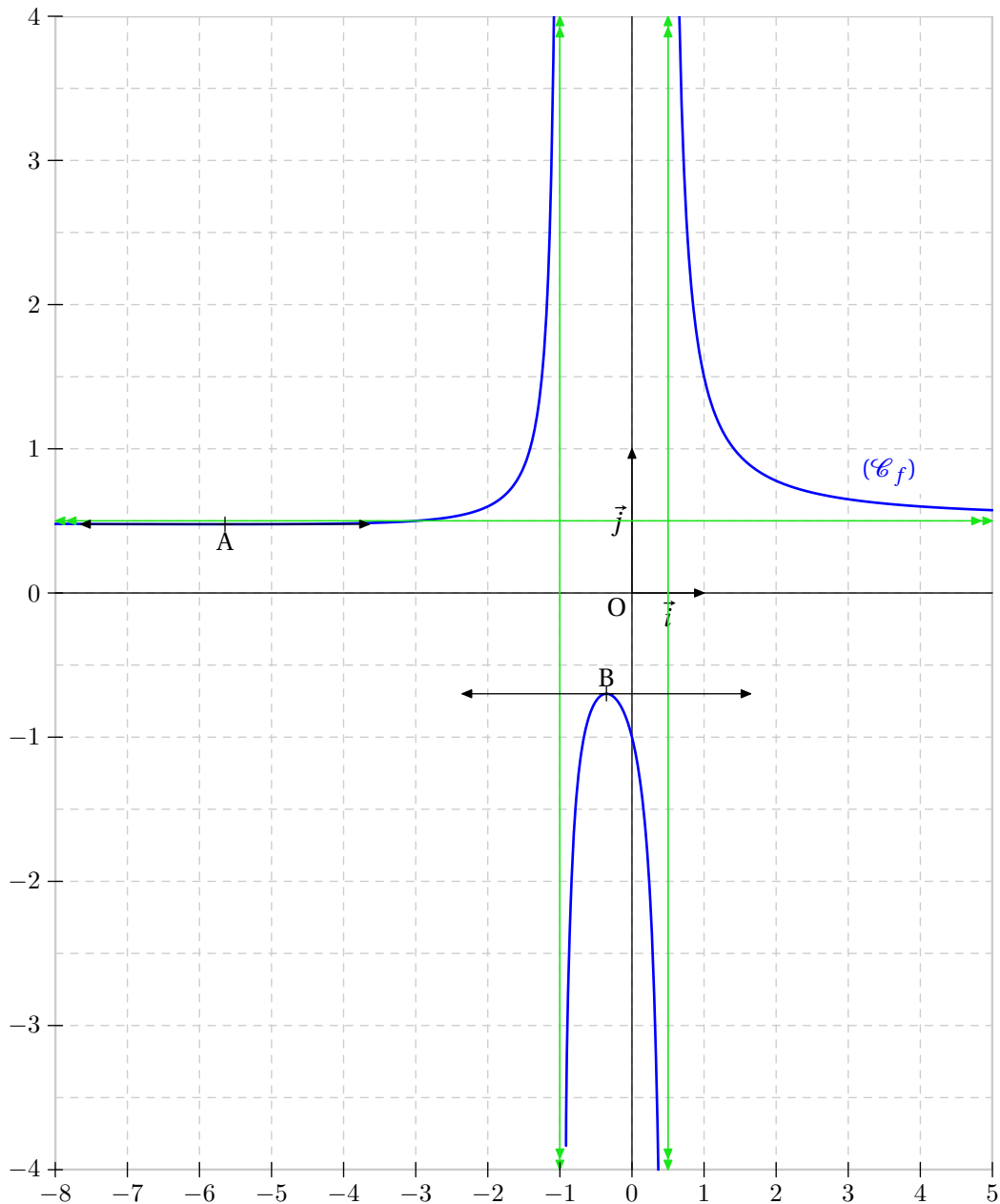
Illustration

Exercice 21

Soit la fonction f définie par :

$$f(x) = \frac{x^2 + x + 1}{2x^2 + x - 1}$$

- 1) Etudier les limites de f . Interpréter graphiquement.
- 2) Etudier les variations de f . Donner le tableau de variations complet.
- 3) Déterminer les éventuelles intersections de (C_f) avec l'axe des abscisses.

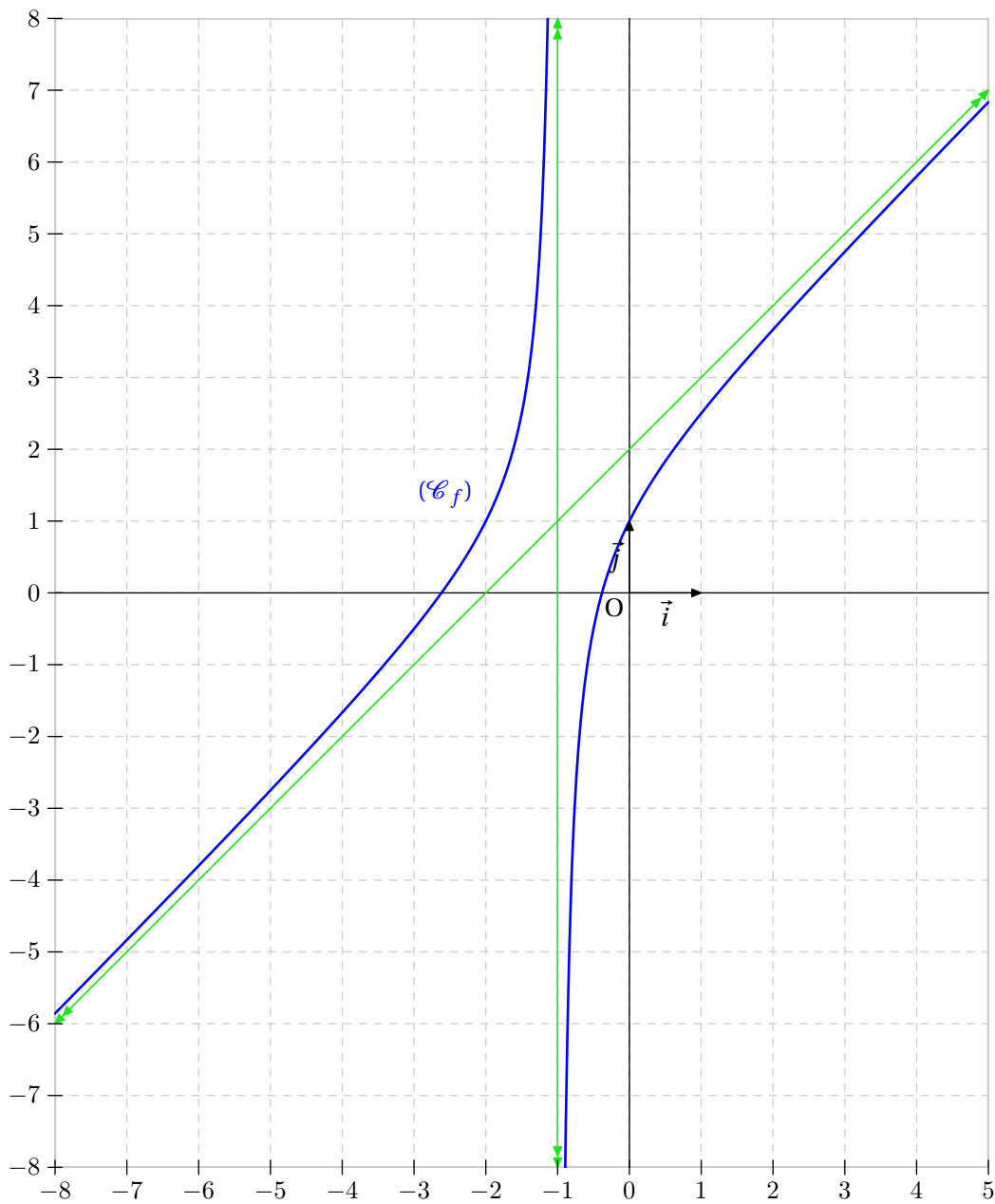
Illustration

Exercice 22

Soit la fonction f définie par :

$$f(x) = \frac{x^2 + 3x + 1}{x + 1}$$

- 1) Etudier les limites de f . Interpréter graphiquement.
- 2) Montrer que la droite (\mathcal{D}) d'équation $y = x + 2$ est asymptote oblique à la courbe (\mathcal{C}_f) .
- 3) Etudier les variations de f . Donner le tableau de variations complet.
- 4) Déterminer les éventuelles intersections de (\mathcal{C}_f) avec l'axe des abscisses.

Illustration

Exercice 23

On considère les fonctions suivantes :

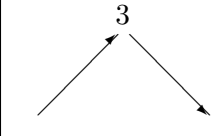
$$k : x \mapsto x^2 \quad r : x \mapsto \sqrt{x} \quad v : x \mapsto \frac{1}{x} \quad p : x \mapsto -x^2 \quad g : x \mapsto x - 2$$

Donner pour chacune des fonctions suivantes une formule algébrique et l'ensemble de définition.

- 1) $r \circ g$;
- 2) $p \circ r$;
- 3) $v \circ g$;
- 4) $k \circ r$;
- 5) $k \circ k$;
- 6) $k \circ g$.

Exercice 24

Voici le tableau de variations d'une fonction f définie sur \mathbb{R} :

x	-8	1	8
$f(x)$			

On donne $f(-2) = -1$ et $f(2) = 0$.

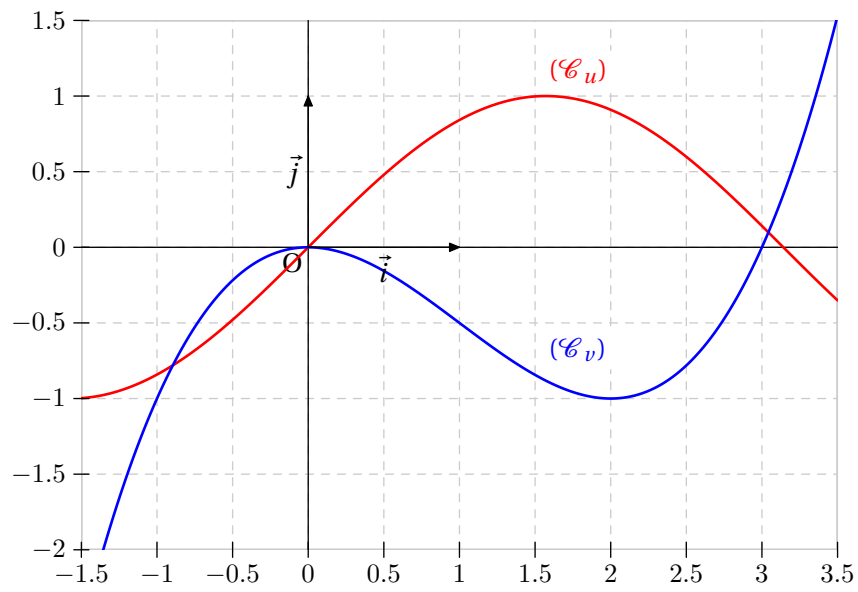
On définit les fonctions suivantes :

$$h : x \mapsto f(x) + 2 \quad r : x \mapsto f(x + 2) \quad p : x \mapsto f(2x) \quad g : x \mapsto 2f(x)$$

- 1) Donner les valeurs de $g(1)$, $h(2)$, $p(1)$ et $r(-1)$.
 - 2) Etablir les tableaux de variations de h , r , p et g .
-

Exercice 25

u et v sont représentées ci-dessous. Tracer sur ce graphique la courbe représentative de la fonction $u + v$.

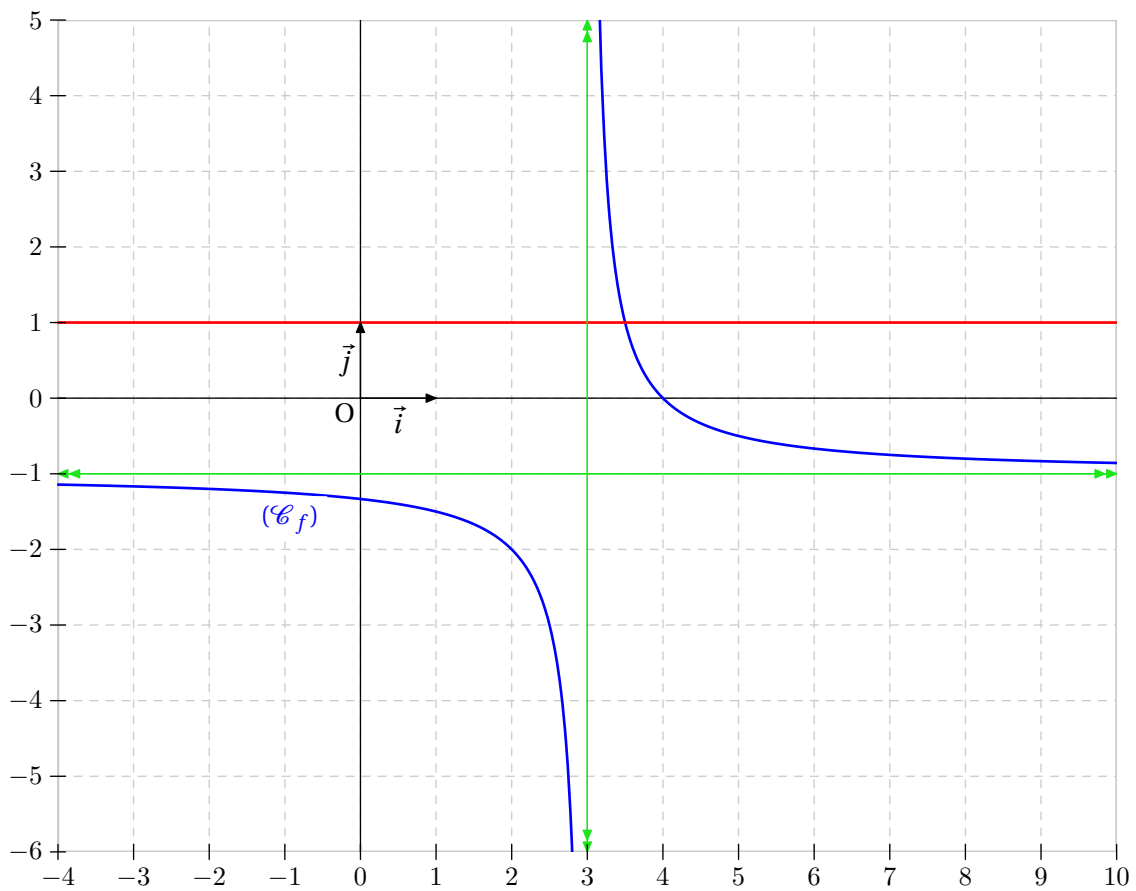


Exercice 26

On donne trois expressions de l'image $f(x)$ d'un réel x différent de 3 par une fonction f :

$$f_1(x) = 1 + \frac{7-2x}{x-3} \quad f_2(x) = \frac{4-x}{x-3} \quad f_3(x) = -1 + \frac{1}{x-3}$$

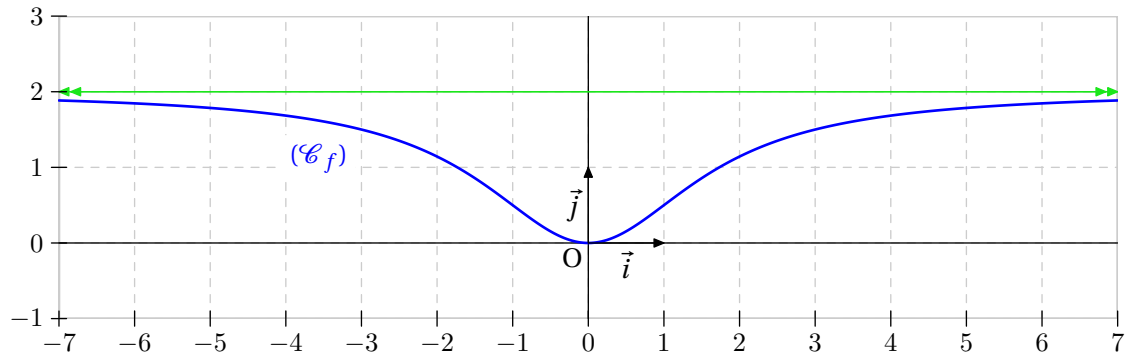
- 1) Vérifier que ces trois expressions sont égales.
- 2) Dans chacun des cas suivants, choisir l'expression la mieux adaptée et répondre à la question.
 - a) Etudier les variations de la fonction f .
 - b) Résoudre l'équation $f(x) = 0$.
 - c) Pour quelles valeurs de x la courbe (\mathcal{C}_f) représentative de f est-elle au dessus de la droite d'équation $y = 1$.

Illustration

Exercice 27

Soit la fonction f définie par $f(x) = \frac{2x^2}{x^2 + 3}$.

- 1) Déterminer les réels a et b tels que $f(x) = a + \frac{b}{x^2 + 3}$.
- 2) Montrer que f est majorée par 2.

Illustration

Exercice 28

On considère les fonctions f et g définies par :

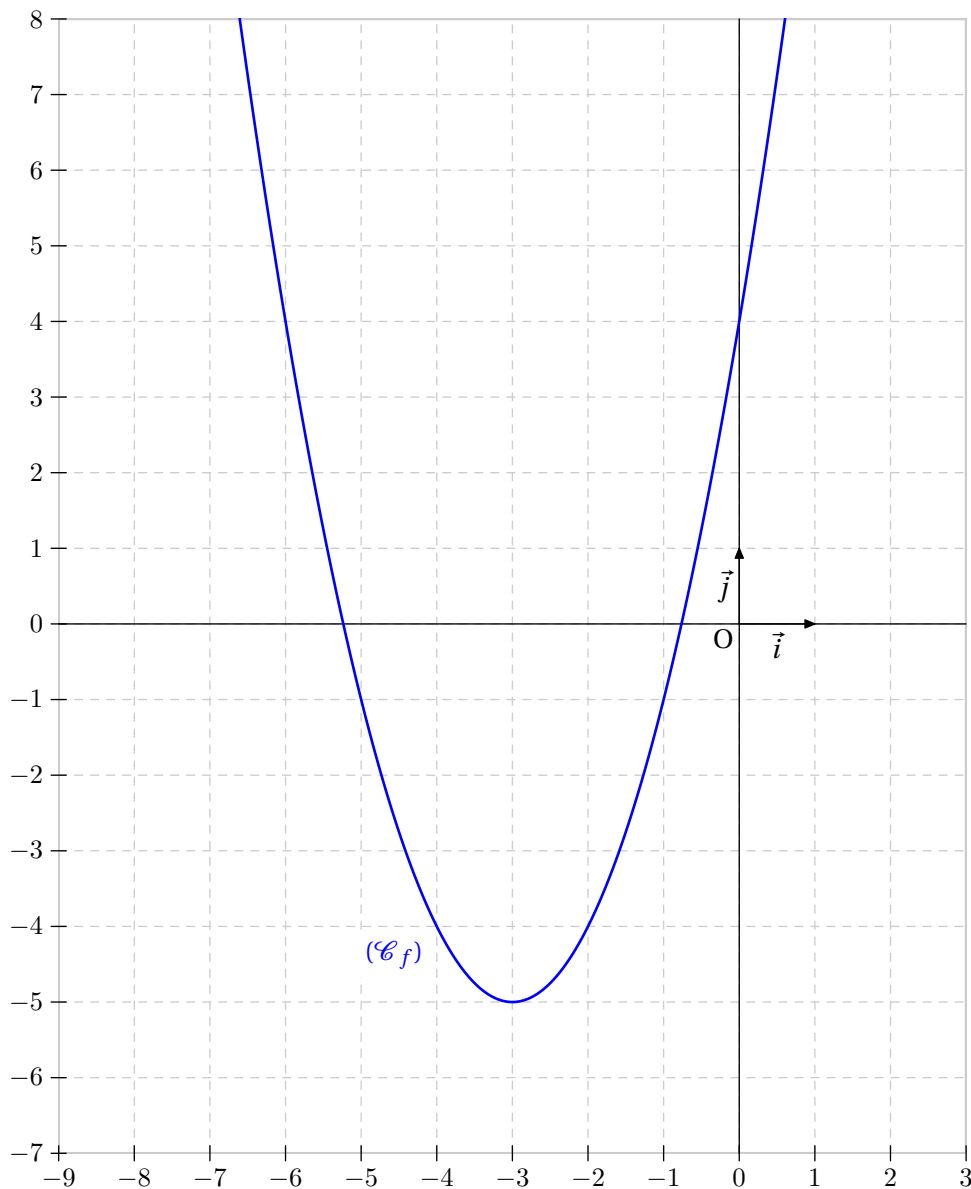
$$f(x) = x^2 - 1 \quad \text{et} \quad g(x) = \frac{x+1}{x}.$$

- 1) Calculer $g \circ f(x)$.
 - 2) Quel est l'ensemble de définition de $g \circ f$?
-

Exercice 29

On considère la fonction f définie sur \mathbb{R} par $f(x) = x^2 + 6x + 4$.
 (\mathcal{C}_f) est la courbe représentative de f .

- 1) Vérifier que $f(x) = (x + 3)^2 - 5$.
- 2) Donner la transformation qui permet d'obtenir la courbe (\mathcal{C}_f) à partir d'une courbe connue.
- 3) En déduire le tableau de variations de la fonction f .
- 4) Par un procédé analogue, déterminer le tableau de variations de la fonction g définie sur \mathbb{R} par : $g(x) = x^2 - 8x + 3$.

Illustration

Exercice 30

Soit la fonction f définie par

$$f(x) = \frac{x^2 - 11x + 28}{3 - x}.$$

Dans le plan muni d'un repère $(O ; \vec{i}, \vec{j})$, on note (\mathcal{C}_f) la courbe représentant f .

- 1)
 - a) Donner l'ensemble de définition \mathcal{D}_f de la fonction f .
 - b) Déterminer les limites de la fonction f aux bornes de son ensemble de définition.
 - c) Que peut-on en déduire pour la courbe (\mathcal{C}_f) ?
 - d) Montrer que, pour tout réel x de \mathcal{D}_f ,

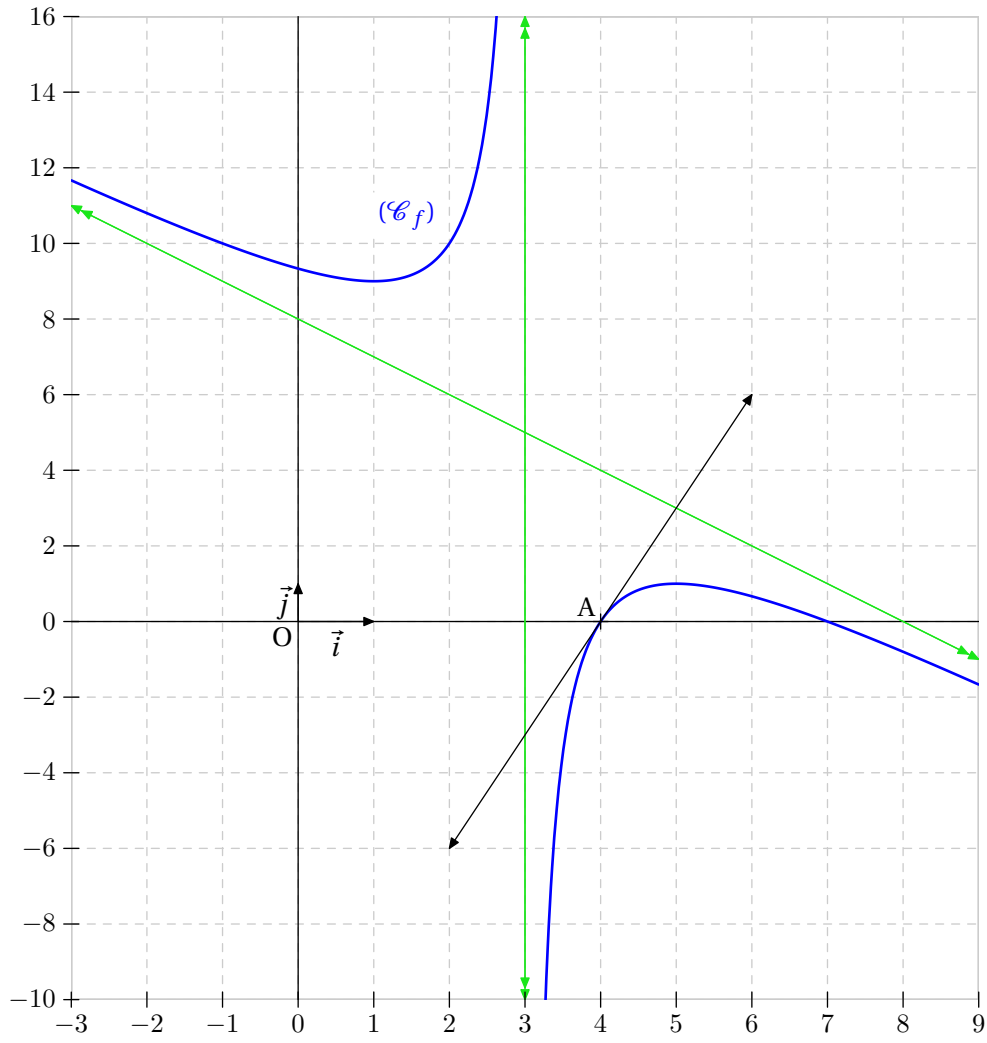
$$f(x) = 8 - x + \frac{4}{3 - x}.$$

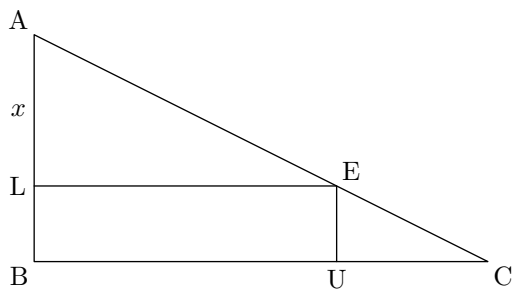
- e) Montrer que la droite (Δ) d'équation $y = 8 - x$ est asymptote oblique à la courbe (\mathcal{C}_f) en l'infini.
 - f) Etudier la position relative de (\mathcal{C}_f) par rapport à (Δ) .
- 2)
 - a) Montrer que, pour tout réel x de \mathcal{D}_f ,

$$f'(x) = \frac{-x^2 + 6x - 5}{(3 - x)^2}.$$

- b) Dresser le tableau de variations de la fonction f sur son ensemble de définition.
On veillera notamment à y faire apparaître les limites précédemment obtenues.
- 3)
 - a) Déterminer les coordonnées des éventuels points d'intersection de la courbe (\mathcal{C}_f) et de l'axe des abscisses.
 - b) Déterminer les coordonnées des éventuels points d'intersection de la courbe (\mathcal{C}_f) et de l'axe des ordonnées.
- 4)
 - a) Déterminer l'approximation affine locale de $f(x)$ pour x voisin de 4.
 - b) Donner une valeur approchée de $f(3, 9)$.

Illustration



Exercice 31

Soit ABC un triangle rectangle en B tel que $AB = 6$ et $BC = 12$.

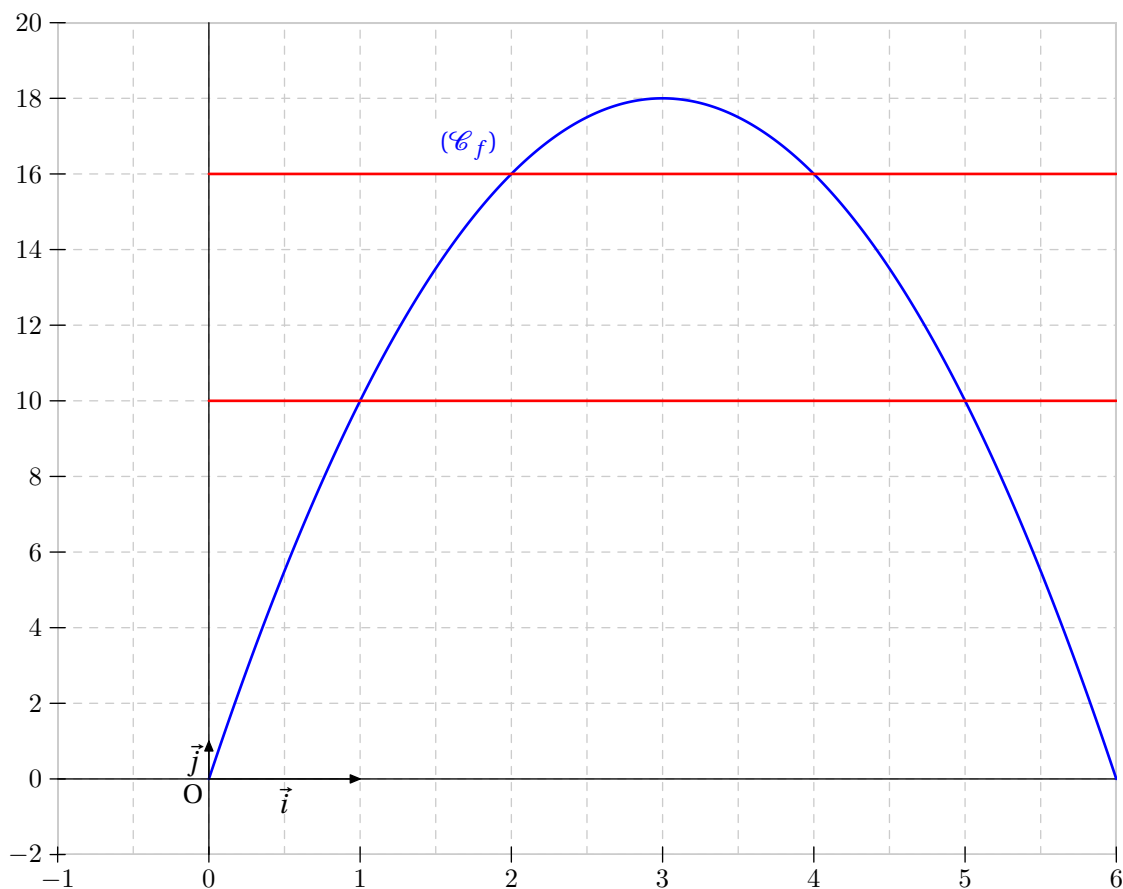
E étant un point du segment $[AC]$, on considère ses projetés orthogonaux L et U respectivement sur les segments $[AB]$ et $[BC]$ définissant un rectangle $BLEU$.

On pose $AL = x$.

- 1) a) Prouver que : $\frac{AL}{AB} = \frac{BU}{BC}$.
 b) Calculer l'aire, en fonction de x du rectangle $BLEU$ puis montrer qu'elle peut s'écrire :

$$f(x) = 18 - 2(x - 3)^2.$$

- 2) Donner la représentation graphique de la fonction f dans un plan muni d'un repère orthogonal $(O ; \vec{i}, \vec{j})$.
 On rappelle que la fonction est définie sur $[0 ; 6]$.
 3) A l'aide de la représentation graphique, faire une conjecture sur les variations de f puis la prouver.
 4) Par le calcul, déterminer les distances AL correspondant à une aire de 10.
 5) Résoudre, à l'aide d'un tableau de signes, l'inéquation $f(x) > 16$.

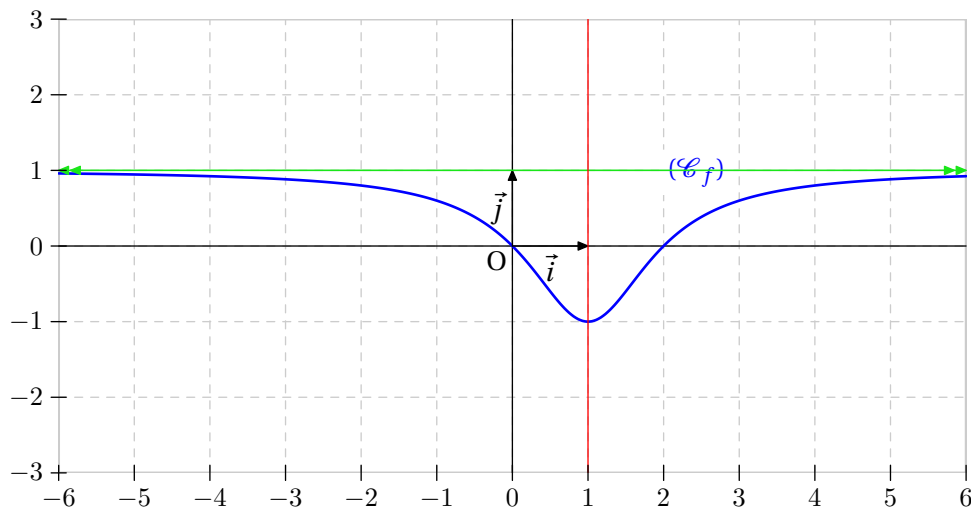
Illustration

Exercice 32

On considère la fonction f définie par $f(x) = 1 - \frac{2}{x^2 - 2x + 2}$.

On note (C_f) sa courbe représentative dans un repère orthogonal.

- 1) Montrer que la fonction f est définie sur \mathbb{R} .
- 2) Montrer que la droite (D) d'équation $x = 1$ est axe de symétrie pour (C_f) .
- 3) Résoudre l'équation $f(x) = 0$.
- 4) Montrer que pour tout réel x , on a $-1 \leq f(x) < 1$.

Illustration

Exercice 33

Soit (C_f) la courbe représentative de la fonction racine carrée.

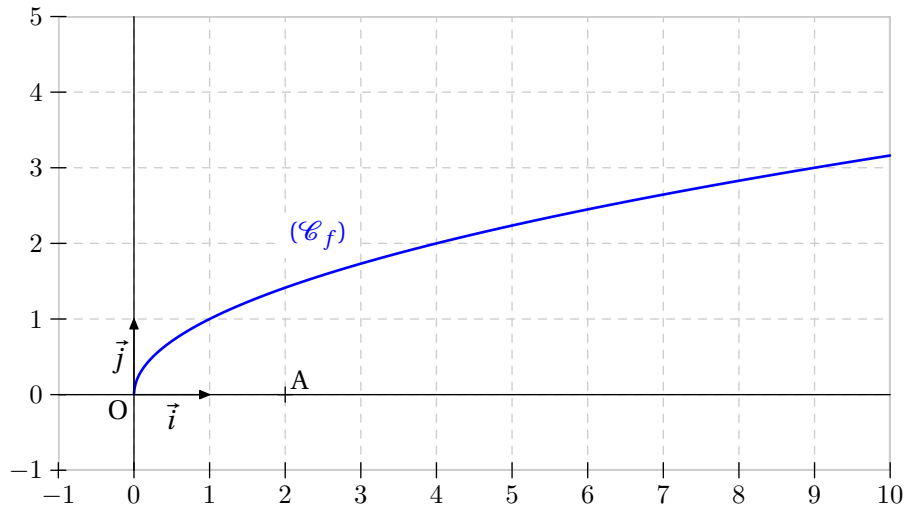
A est le point de coordonnées $(2 ; 0)$.

Pour x positif, on note $M(x ; \sqrt{x})$ le point d'abscisse x .

1) Exprimer en fonction de x la valeur AM^2 . On pourra la noter $d(x)$.

2) Quel est le point de (C_f) qui est le plus près de A .

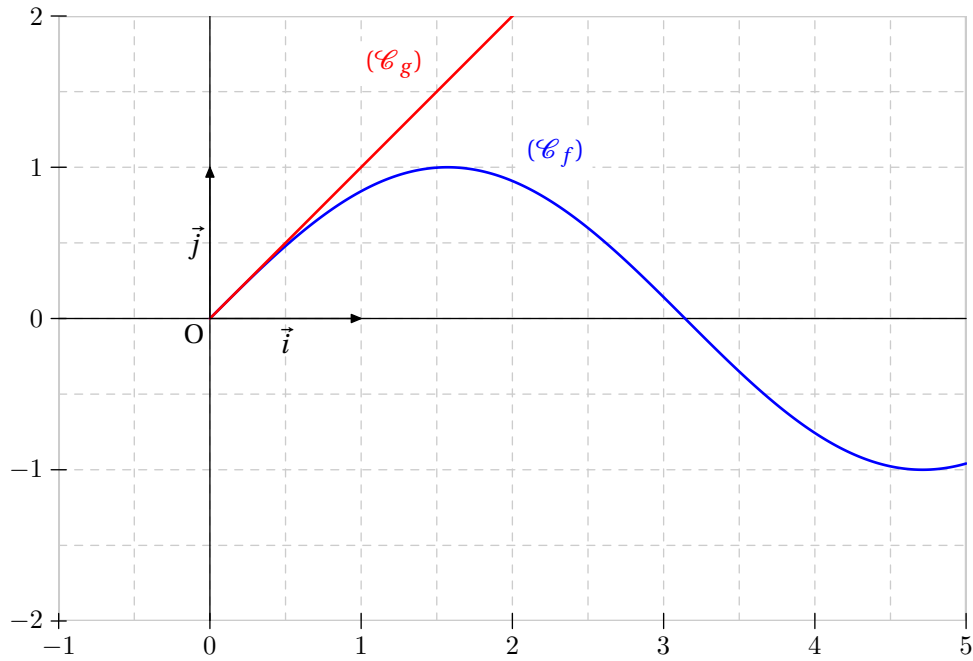
Indication : étudier les variations de la fonction d .

Illustration

Exercice 34

Montrer que pour tout x positif, on a $\sin x \leq x$.

Indication : étudier les variations de la fonction f définie par $f(x) = x - \sin x$.

Illustration

Exercice 35

On considère la fonction f définie sur $] -\infty ; -2[\cup] -2 ; 2[\cup]2 ; +\infty[$ par

$$f(x) = \frac{x^3 - 3x^2 + 12}{4 - x^2}.$$

On désigne par (\mathcal{C}_f) sa courbe représentative dans un repère orthonormal $(O ; \vec{i}, \vec{j})$.

1) Déterminer les limites de f en -2 et en 2 .

Quelle conséquence graphique en tire-t-on pour (\mathcal{C}_f) ?

2) a) Déterminer les limites de f en $+\infty$ et en $-\infty$.

b) Déterminer les réels a, b, c et d tels que, pour tout x différent de -2 et 2 ,

$$f(x) = ax + b + \frac{cx + d}{4 - x^2}.$$

c) En déduire que la droite (\mathcal{D}) d'équation $y = 3 - x$ est asymptote oblique à (\mathcal{C}_f) .

d) Etudier la position relative de (\mathcal{C}_f) par rapport à (\mathcal{D}) .

3) a) Calculer $f'(x)$ et prouver que $f'(x)$ a le même signe que $12 - x^2$.

b) En déduire les variations de f et dresser le tableau de variations de f .

4) a) Déterminer les coordonnées I , point d'intersection de (\mathcal{D}) et de l'axe des ordonnées.

b) Démontrer que I est le centre de symétrie de (\mathcal{C}_f) .

c) Déterminer l'équation de la tangente (Δ) à (\mathcal{C}_f) au point I .

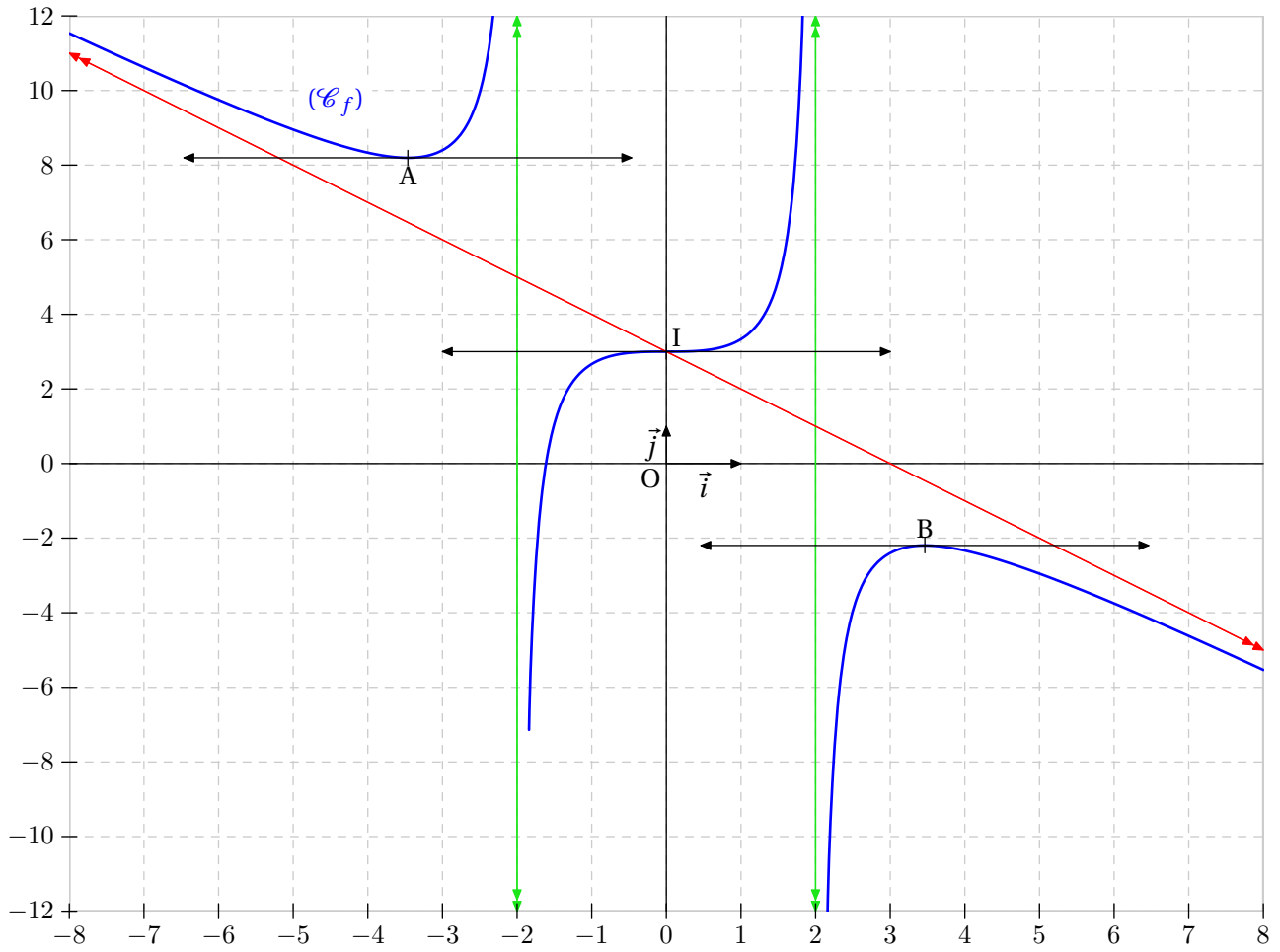
d) Etudier la position relative de (\mathcal{C}_f) par rapport à (Δ) .

5) Construire (\mathcal{C}_f) , ses asymptotes ainsi que les tangentes horizontales.

6) Déterminer graphiquement le nombre de solutions de l'équation $f(x) = k$ où k est un réel fixé. On discutera suivant les valeurs de k .

7) Déterminer graphiquement le nombre de solutions de l'équation $f(x) = ax + 3$ où a est un réel fixé. On discutera suivant les valeurs de a .

Illustration



Exercice 36

f est la fonction définie sur $] -\infty ; 0[\cup]0 ; +\infty[$ par

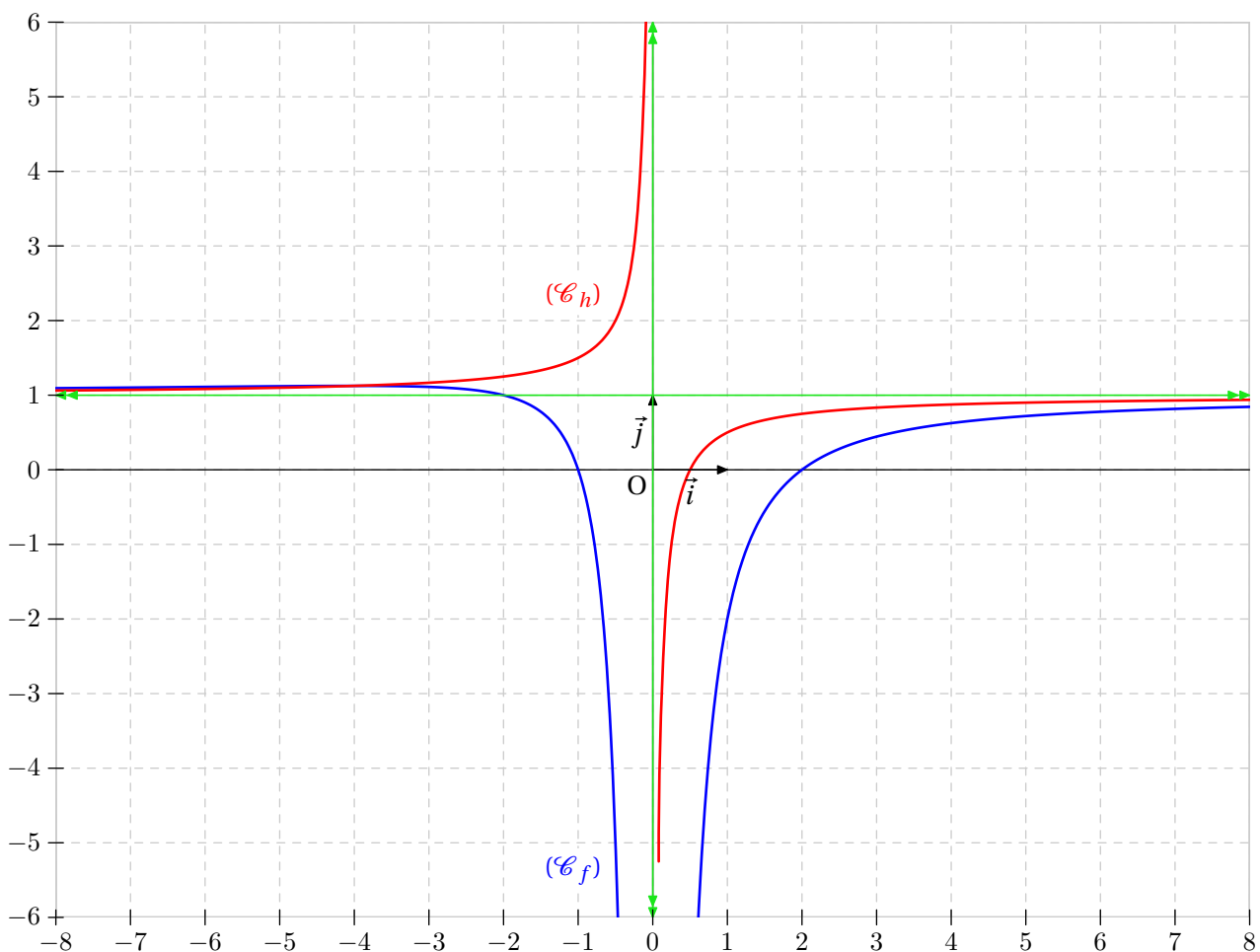
$$f(x) = 1 - \frac{1}{x} - \frac{2}{x^2}.$$

(\mathcal{C}_f) est sa courbe représentative dans un repère orthonormal $(O ; \vec{i}, \vec{j})$.

- 1) a) En écrivant $f(x) = 1 - \frac{x+2}{x^2}$, trouver la limite de f à droite et à gauche de 0.
b) Quelles sont les limites de f en $-\infty$ et en $+\infty$.
- 2) Démontrer que (\mathcal{C}_f) coupe l'axe des abscisses en deux points A et B dont vous préciserez les coordonnées.
- 3) a) Etudier les variations de f et dresser son tableau de variations.
b) Tracer la courbe (\mathcal{C}_f) .
- 4) Sur la même figure que la courbe (\mathcal{C}_f) , construire la courbe représentative (\mathcal{C}_h) de la fonction h définie sur $] -\infty ; 0[\cup]0 ; +\infty[$ par

$$h(x) = 1 - \frac{1}{2x}.$$

- 5) a) Discuter suivant les valeurs de m du nombre de solutions de l'équation $f(x) = m$.
b) Lorsque la droite d'équation $y = m$ coupe (\mathcal{C}_f) en deux points M et N distincts, calculer en fonction de m les coordonnées du milieu de $[MN]$.
c) Prouver que I est un point de (\mathcal{C}_h) .

Illustration

Exercice 37

1) Montrer que la fonction f définie sur \mathbb{R} par

$$f(x) = (4x - 1)^2 - 9$$

peut s'écrire comme le produit de deux fonctions affines.

2) Montrer que tout $x \neq -1$, la fonction g définie par

$$g(x) = \frac{(x - 1)^2 - 4}{(x + 1)^2}$$

peut s'écrire comme le quotient de deux fonctions affines.

Exercice 38

On donne : $f(x) = -3x + 1$ et $g(x) = \frac{1}{x}$.

On définit la fonction h définie sur $I =]-\infty ; \frac{1}{3}[$ par $h = g \circ f$.

- 1) Donner l'expression de $h(x)$.
- 2) Déterminer le sens de variations de h sur I .

Exercice 39

Soit la fonction f définie par $f(x) = \sqrt{4x - 1}$ sur $I = \left[\frac{1}{4} ; +\infty \right[$.

En considérant la fonction f comme la composée de fonctions de référence, préciser le sens de variations de f sur l'intervalle I .

Exercice 40

On considère la fonction f définie sur \mathbb{R} par :

$$f(x) = x^2 + 6x + 4.$$

(\mathcal{C}_f) est sa courbe représentative.

- 1) Vérifier que pour tout réel x , $f(x) = (x + 3)^2 - 5$.
 - 2) Donner la transformation qui permet d'obtenir la courbe (\mathcal{C}_f) à partir de la parabole (\mathcal{P}) représentative de la fonction carrée.
 - 3) Tracer (\mathcal{P}) et (\mathcal{C}_f) dans un même repère.
 - 4) Dresser le tableau de variations de f .
-

Exercice 41

On considère la fonction f définie sur l'intervalle $\mathcal{D}_f =]-\infty ; -3[\cup]-3 ; +\infty[$ par :

$$f(x) = \frac{-2x - 5}{x + 3}.$$

(\mathcal{C}_f) est la courbe représentative de f .

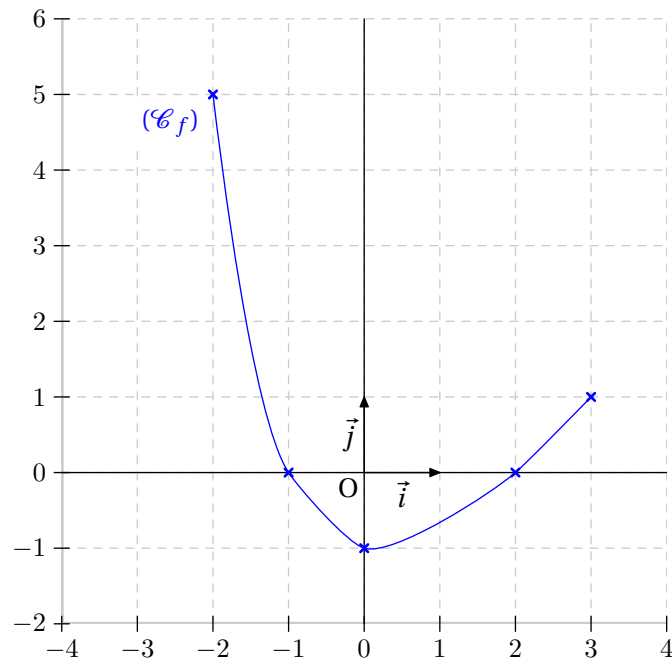
1) Déterminer les réels a et b tels que :

$$f(x) = a + \frac{1}{x + b}.$$

2) Donner la transformation qui permet d'obtenir la courbe (\mathcal{C}_f) à partir de l'hyperbole représentative de la fonction inverse.

Exercice 42

Sur le graphique ci-dessous, la courbe (C_f) est la courbe représentative d'une fonction f définie sur l'intervalle $[-2 ; 3]$.



- 1) Donner le tableau de variations de la fonction f .
- 2) Donner l'ensemble de définition de la fonction $\frac{1}{f}$ et donner son tableau de variation.
- 3) Donner l'ensemble de définition de la fonction f^2 et donner son tableau de variation.

Exercice 43

Soit la fonction f définie par $f(x) = \sqrt{\frac{3x+1}{x+1}}$ sur $[0 ; 1]$.

Déterminer un encadrement $f(x)$ sur $[0 ; 1]$. On expliquera son raisonnement.

Exercice 44

1) On considère les fonctions f et g définies par $f(x) = x^2 - 1$ et $g(x) = \frac{x+1}{x}$.

a) Calculer $g \circ f(x)$.

b) Quel est l'ensemble de définition de $g \circ f$?

2) A l'aide des fonctions composées, déterminer le sens de variation de la fonction h définie par

$$h(x) = -\frac{5}{x-2} + 4 \quad \text{sur l'intervalle }]2; +\infty[.$$

Exercice 45

Soit la fonction u définie sur $[-5 ; 3]$ qui a pour tableau de variations :

x	-5	-2	1	3
$u(x)$	0		1	
		-4		-1

- 1) Soit la fonction v définie par $v(x) = -2x + 3$. Donner le tableau de variation de la fonction $f = v \circ u$ sur $[-5 ; 3]$. On expliquera le sens de variation de f sur l'intervalle $[-5 ; -2]$.
- 2) Donner le tableau de variations de la fonction $g = u^2$ sur $[-5 ; 3]$. On expliquera le sens de variation de g sur l'intervalle $[-5 ; -2]$.
On donne : $u(0) = 0$ et $u(2) = 0$.

Exercice 46

Soit la fonction f définie sur $\mathbb{R} \setminus \{-2\}$ par $f(x) = \frac{3x + 5}{x + 2}$.

1) Calculer $f(x) - 3$.

2) En déduire deux réels a et b tels que $f(x) = a + \frac{b}{x + 2}$.

3) Soit (\mathcal{C}_g) la courbe représentative de la fonction $g(x) = -\frac{1}{x}$.
Comment peut-on tracer (\mathcal{C}_f) à partir de (\mathcal{C}_g) ?

4) Donner le tableau de variations de f .

Exercice 47

Soit la fonction f définie sur $\mathbb{R} \setminus \left\{ \frac{1}{2} \right\}$ par $f(x) = \frac{x}{2x-1}$.

1) Calculer $f(x) - \frac{1}{2}$.

2) En déduire deux réels a et b tels que $f(x) = a + \frac{b}{2x-1}$ pour tout $x \neq \frac{1}{2}$.

3) Etudier le sens de variation de la fonction f sur l'intervalle $\left] \frac{1}{2}; +\infty \right[$.

Exercice 48

La fonction f est définie sur $[-2 ; 3]$ et strictement monotone sur les intervalles $[-2 ; 0]$ et $[0 ; 3]$.

De plus, elle admet un minimum égal à -2 et vérifie :

$$f(-2) = 3, \quad f(-1) = 0 \quad \text{et} \quad f(3) = 0.$$

Déterminer le tableau de variations de $f \circ f$.

Exercice 49

Soit la fonction f définie par $f(x) = -\frac{5}{x+1} + 4$.

- 1) Donner son ensemble de définition.
 - 2) Déterminer son sens de variation sur $] -1 ; +\infty[$.
 - 3) Donner son tableau de variations complet.
-

Exercice 50